

საქართველოს ტერიტორიის ფორმირების ისტორიის მანძილზე, რომელი მხრიდან განიცდიდა ქვეყნის საზღვარი ყველაზე ნაკლებ ცვლილებას?

- აღმოსავლეთიდან
- ჩრდილოეთიდან
- სამხრეთიდან
- სამხრეთ-დასავლეთიდან

იპოვეთ მართებული მსჯელობა საქართველოს სასარგებლო წიაღისეულის შესახებ.

- ცანის და ლუხუმის დარიშხანის საბადოები მადნის მაღალი ხარისხისა და დიდი მარაგის გამო მომავალში საქართველომ შესაძლოა მნიშვნელოვან საექსპორტო ნედლეულად გამოიყენოს.
- XX საუკუნის დასაწყისში საქართველო მანგანუმის უდიდესი მომპოვებელი სახელმწიფო იყო; ჭიათურის მანგანუმის საბადოს მარაგის ამოწურვის გამო დღესდღეობით მისი მოპოვება შეწყვეტილია.
- საქართველო განსაკუთრებით მდიდარია საშენი მასალების საბადოებით, რომლებიც ფართოდ გამოიყენება ქვეყნის შიგნით და გარკვეული საექსპორტო პოტენციალიც გააჩნია.
- საქართველოში ნავთობის დაზვერილი მარაგი უდიდესია; სამგორ-პატარძელის საბადოს სრული ამოქმედების შემთხვევაში საქართველო ნავთობის ექსპორტიორ ქვეყანად გადაიქცევა.

ქალაქის ყველაზე ცივი თვის საშუალო ტემპერატურა  $+7,1^{\circ}\text{C}$ -ია, ხოლო ყველაზე თბილი თვის  $+23,2^{\circ}\text{C}$ . რას უდრის ამ ქალაქის ჰაერის ტემპერატურის წლიური ამპლიტუდა?

- $8,05^{\circ}\text{C}$
- $15,15^{\circ}\text{C}$
- $16,1^{\circ}\text{C}$
- $30,3^{\circ}\text{C}$

რომელია აღდგენადი ბუნებრივი რესურსი?

- ქვანახშირი
- მანგანუმი
- მინერალური წყალი
- ნავთობი

საქართველოს რომელ კუთხეში მდებარეობს აჭყესი?

- აჭარაში
- აფხაზეთში
- იმერეთში
- სამეგრელოში

რომელია ფართობის მიხედვით უდიდესი კუნძული?

- მადაგასკარი
- კალიმანტანი
- გრენლანდია
- ტასმანია



რომელი ორგანიზაციისაა მოცემული დროშა?

- გაეროს
- ნატოს
- ევროსაბჭოს
- ეუთოს

ჩამოთვლილთაგან

რომელი სახელმწიფოა პირველ ათეულში მოსახლეობის რაოდენობით?

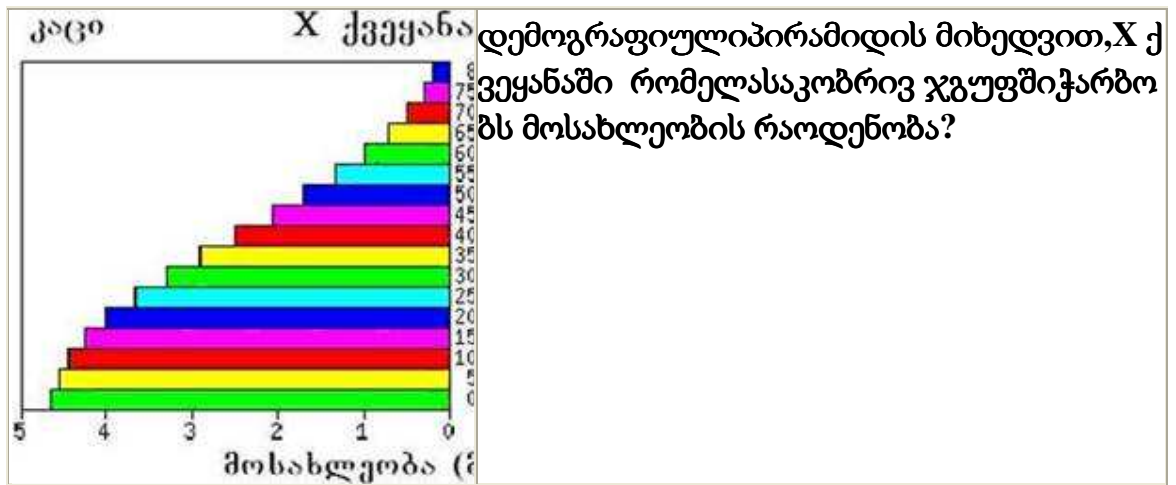
- კანადა
- იაპონია
- საფრანგეთი
- მექსიკა

რომელი ნაკრძალი მდებარეობს კახეთის ტერიტორიაზე?

- აჯამეთის
- საგურამოს
- ლაგოდეხის
- სათაფლიის

რომელი ნაკრძალი მდებარეობს კახეთის ტერიტორიაზე?

- აჯამეთის
- საგურამოს
- ლაგოდეხის
- სათაფლიის



- 0-9
- 15-24
- 35-44
- 50-59

რომელია ჩრდილოეთ ოსეთის ავტონომიური რესპუბლიკის დედაქალაქი?

- ბესლანი
- ალაგირი
- ვლადიკავკაზი
- არდონი

რომელია ჩრდილოეთ ყინულოვანი ოკეანისაუზის ზღვა?

- ოხოტის
- სარგასის
- კარის
- ხმელთაშუა

რომელია საქართველოს „სიცივის პოლუსი“ (- 42°C)?

- ზემო აჭარის მეტეოსადგური
- დაბა ბაკურიანის მეტეოსადგური
- ყაზბეგის მაღალმთიანი მეტეოსადგური
- დაბა გუდაურის მეტეოსადგური

რომელი მდინარე მდებარეობს აზიაში?

- ამაზონი
- მისისიპი
- იანპი
- კონგო

საქართველოს რომელ მდინარეს ახასიათებსღვარცოფული მოვლენები?

- ივრის ქვემო დინებას
- ფიჩორას
- დურუჯს
- რიონის ქვემო დინებას

რომელ კონტინენტზე მდებარეობს უდაბნო ტაკლა-მაკანი?

- აზიის
- აფრიკის
- ავსტრალიის
- ევროპის

ჩამოთვლილთაგან რომელია ყველაზე დიდი ენერგორესურსისმქონე მდინარე?

- ჭოროხი
- ენგური
- იორი
- ცხენისწყალი

წლის ბოლოს ქვეყანაში შობადობის კოეფიციენტი მაშეადგინა 20‰, ხოლო სიკვდილიანობის კოეფიციენტი 15‰. რას უდრის ბუნებრივი მოძრაობის კოეფიციენტი?

- 5‰
- 5‰
- 5%
- 5%

რომელი ორგანიზაციის მიერ არის შემუშავებული ჰუმანური განვითარების ინდექსი?

- წითელი ჯვრის
- ოპეკი-ს
- ევროპის კავშირის
- გაერო-ს

რომელი ბუნებრივ-კატასტროფული მოვლენა უკავშირდება დედამიწაზე გარეგანი (ეგზოგენური) ძალების მოქმედებას?

- მეწყერი
- მიწისძვრა
- ცუნამი
- ვულკანიზმი

რომელი ნაკრძალი მდებარეობს კახეთის ტერიტორიაზე?

- აჯამეთის
- ბაბანეურის
- კინტრიშის
- კოლხეთის

რომელი სასარგებლო წიაღისეულით არის მდიდარი საქართველო?

- ალუმინით
- მანგანუმით
- ურანით
- ალმასით

როდის მოხდა მსოფიოს პოლიტიკურ რუკაზე ბოლო ყველაზე დიდი ცვლილება?

- I მსოფლიო ომის შემდეგ
- ცივი ომის დამთავრების შემდეგ
- ისრაელ-პალესტინის ომის შემდეგ
- საქართველო-რუსეთის ომის შემდეგ

რომელი ქვეყანა არ არის ევროკავშირის წევრი?

- ბელგია
- შვეიცარია
- ნიდერლანდები
- შვედეთი

საქართველოს ფარგლებში რომელია უგრძესი მდინარე?

- მტკვარი
- ლიახვი
- ალაზანი
- რიონი

რამდენი ავტონომიური რესპუბლიკაა დღეს საქართველოში:

- 1
- 2
- 3
- 4

საქართველოს რომელ რეგიონშია სასოფლო – სამეურნეო სავარგულები ყველაზე დიდი რაოდენობით?

- ჯავახეთში
- კახეთში
- იმერეთში
- სამეგრელოში

სად მდებარეობდა ქართველურ ტომთა პირველი პოლიტიკური გაერთიანება (ძვ. წ. II ათასწლეული) დიაოხი?

- მდ. მტკვრის აუზში
- კასპიის ზღვის დასავლეთ სანაპიროზე
- მდ. ჭოროხის აუზში
- შავი ზღვის დასავლეთ სანაპიროზე



რომელი ციფრით არის კონტურულ რუკაზე აღნიშნული ინდოეთი?

- 1
- 2
- 3
- 4



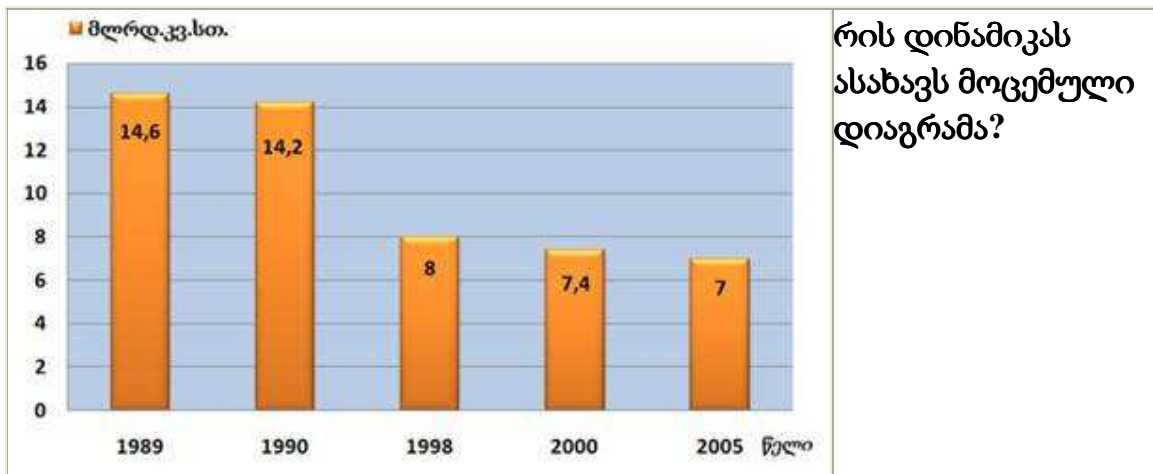


რომელ ქვეყანაშია სურათზე გამოსახული მონუმენტი?

- აშშ-ში
- ბრაზილიაში
- გაერთიანებულ სამეფოში
- ავსტრალიაში

რას უწოდებენ დედამიწის ქერქის ზედა ფხვიერ ნაწილს, რომელსაც გააჩნია ნაყოფიერება დაშექმნილია ქანების, მცენარეების, ცხოველების, ჰავისა და რელიეფის ურთიერთქმედებისშედეგად?

- ლითოსფერო
- ჰუმუსი
- ნიადაგი
- კონგლომერატი



რის დინამიკას ასახავს მოცემული დიაგრამა?

- ელექტროენერჯის წარმოების
- ქვანახშირის მოპოვების
- ნავთობის მოპოვების
- ფოლადის წარმოების

საქართველოს რომელ რაიონში გვხვდება ჩაის პლანტაციები?

- გორის
- ტყიბულის
- გურჯაანის
- წალკის

რომელი გეოგრაფიული ობიექტი ასრულებს საქართველოში ჰაერის მასების გადაადგილებისთვის „კლიმატური დერეფნის“ ფუნქციას?

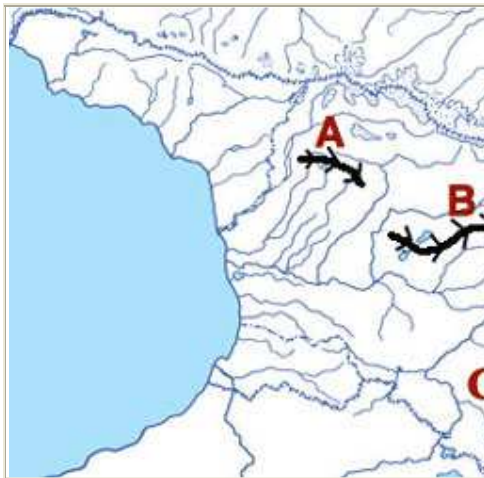
- კოლხეთის დაბლობი
- ლიხის ქედი
- ჯავახეთის ზეგანი
- მცირე კავკასიონი

რა ეწოდება მეცნიერულ მიმართულებას, რომელიც შეისწავლის დედამიწის ქერქის სტრუქტურას, მოძრაობასა და ცვალებადობას?

- გეოდეზია
- ჰიდროლოგია
- ტექტონიკა
- მეტეოროლოგია

რომელ საბადოში მოიპოვება ქვანახშირი?

- ფიჩორა-პალისატომის
- მირზაანის
- ტყიბულ-შაორის
- ლოპოტის



რომელი ქედია აღნიშნულისაქართველოს კონტურულ რუკაზე ლათინური ასოთი – E?

- რაჭის
- მთიულეთის
- სამსარის
- კახეთის

რომელ წელს უწოდებენ აფრიკის წელს?

- 1920
- 1960
- 1990
- 2010

წლის ბოლოს ქვეყანაში შობადობის კოეფიციენტი შეადგინა 20‰, ხოლო ბუნებრივი მოძრაობის კოეფიციენტი 5‰. რას უდრის სიკვდილიანობის კოეფიციენტი?

- 15‰
- 15‰
- 15%
- 15%

რა ეწოდება დაცულ ტერიტორიას, რომელიც შექმნილია ფლორისა და ფაუნის ბუნებრივი განვითარების პროცესის შენარჩუნების, სამეცნიერო-საგანმანათლებლო მიზნებისა და ბუნების მდგომარეობაზე დაკვირვებისთვის?

- ბუნების ძეგლი
- აღკვეთილი
- ნაკრძალი
- დაცული ლანდშაფტი

რომელი მდინარე მდებარეობს აზიაში?

- ამაზონი
- მისისიპი
- ხუანხე
- კონგო

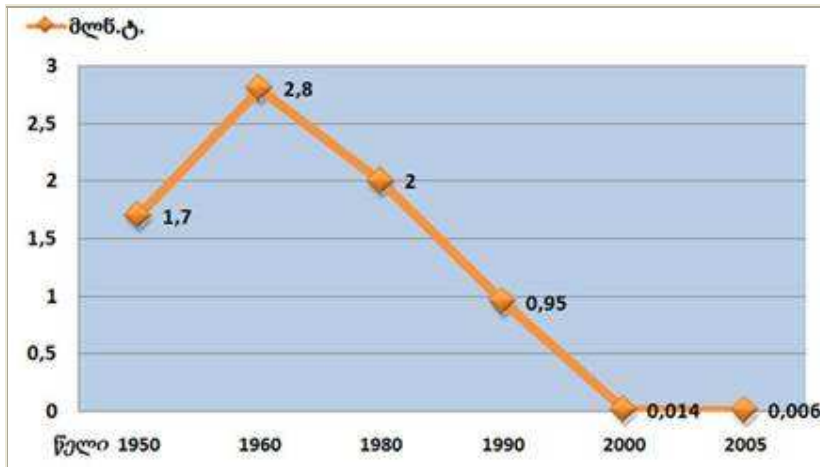
რომელი ქედი მდებარეობს ჩრდილოეთ ამერიკაში?

- კორდილიერები
- ალპები
- ტიან-შანი
- ანდეები



რომელი მდინარეა აღნიშნული კონტურულ რუკაზე კითხვისნიშნით?

- რიონი
- ლიახვი
- მტკვარი
- ალაზანი



საქართველოს მრეწველობის რომელი დარგის მონაცემების დინამიკას ასახავს მოცემული გრაფიკი?

- ელექტროენერჯის წარმოების
- ქვანახშირის მოპოვების
- ნავთობის მოპოვების
- ფოლადის წარმოების



რომელი მდინარეა აღნიშნული კონტურულ რუკაზე კითხვისნიშნით?

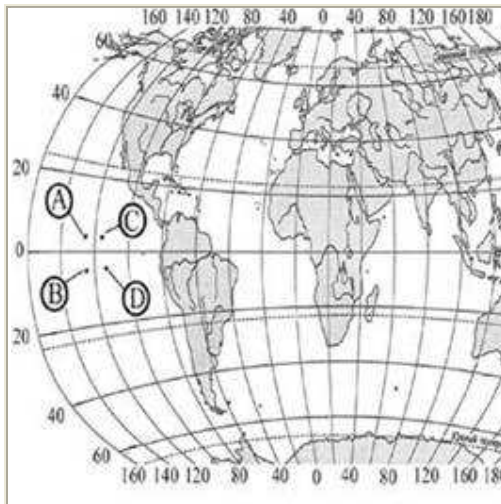
- ენგური
- ბზიფი
- აჭარისწყალი
- ცხენისწყალი

რომელი ქვეყანაა აფრიკაში ყველაზე მრავალრიცხოვანი?

- ნიგერია
- სუდანი
- ალჟირი
- ეგვიპტე

რომელი ქვეყანაა აფრიკაში ყველაზე მრავალრიცხოვანი?

- ნიგერია
- სუდანი
- ალჟირი
- ეგვიპტე



რომელი წერტილის გეოგრაფიულიკოორდინატებია – 5° ჩ.გ. და 125° დ.გ.?

- A
- B
- C
- D

რომელი სახელმწიფოს პოლიტიკური ჰეგემონიის პერიოდი იყო მსოფლიოს პოლიტიკური რუკის ფორმირების ახალი პერიოდის ბოლო (XIX ს-დან I მსოფლიო ომამდე)?

- აშშ-ის
- ესპანეთის
- გაერთიანებული სამეფოს
- საფრანგეთის

როდის გაჩნდა მსოფლიოს პოლიტიკურ რუკაზე ევროპის სოციალისტური ქვეყნების უმრავლესობა?

- I მსოფლიო ომის შემდეგ
- II მსოფლიო ომის შემდეგ
- ცივი ომის დამთავრების შემდეგ
- კარიბის კრიზისის შემდეგ

რომელია სომხეთის დედაქალაქი?

- ბაქო
- ერევანი
- ვლადიკავკაზი
- ნალჩიკი